

## CONHECIMENTOS BÁSICOS

NAS QUESTÕES NUMERADAS DE 01 A 10, ASSINALE A ÚNICA ALTERNATIVA QUE RESPONDE CORRETAMENTE AO ENUNCIADO.

### LÍNGUA PORTUGUESA

LEIA O TEXTO A SEGUIR PARA RESPONDER ÀS QUESTÕES NUMERADAS DE 01 A 04.

#### ADEUS, ROBERTO CARLOS

No início dos anos 70, Roberto Carlos gravou um de seus grandes sucessos, "Eu quero apenas", mais conhecida como "Um milhão de amigos", que em um dos versos diz: "Eu quero crer na paz do futuro/ eu quero ter um quintal sem muro". Decorridas mais de três décadas do lançamento desta música – que fez a cabeça de muita gente, ouvida e cantada por milhões de fãs, muitas vezes, aos prantos –, podemos dizer que este futuro já chegou. Portanto, já é possível constatar que, infelizmente, aquele ideário do artista não foi alcançado: a paz não vigora em nosso mundo como também não vivemos em quintais sem muros. Ao contrário, ao longo desses anos acentuaram-se muros e cercas em torno de



propriedades privadas, até mesmo em prédios residenciais nas grandes cidades. Mas o mais irônico é que coube a Roberto Carlos reivindicar a forma mais radical que se conhece de propriedade privada; não apenas aquela sobre os meios de produção, um imóvel ou um automóvel, mas a propriedade privada de sua história – e em torno da qual ele tenta erguer um muro para protegê-la da "invasão" alheia. (...)

Paulo Cesar de Araújo - 30 de abril de 2007

[http://www.interney.net/blogs/dbasica/2007/04/30/adeus\\_roberto\\_carlos/](http://www.interney.net/blogs/dbasica/2007/04/30/adeus_roberto_carlos/)

01. A leitura global de *Adeus, Roberto Carlos* nos permite inferir que o autor do texto defende a idéia de que...

- A) construção de muros e cercas, em torno de propriedade privada para protegê-la da invasão alheia, é um direito de todos, e que deve ser respeitado, mesmo que de forma radical.
- B) muros e cercas que crescem a cada dia, em torno das propriedades privadas, realizam o desejo e a previsão feita pelo cantor Roberto Carlos, há mais de três décadas, na sua música "Eu quero apenas".
- C) atitudes recentes do cantor Roberto Carlos demonstram incoerência em relação ao que parecia ser o ideal de vida do cantor, revelado nos versos da música "Um milhão de amigos", gravada por ele, no início da sua carreira artística.
- D) histórias pessoais, como a do cantor Roberto Carlos, são, ironicamente, desrespeitadas em sua privacidade, desde o início dos anos 70, o que se acentua ainda mais nos tempos sem paz que vigoram atualmente, no mundo.

02. O esquema textual que melhor identifica o texto *Adeus, Roberto Carlos*, é:

- A) dissertativo, com passagens narrativas, em que predomina a função referencial da linguagem.
- B) descritivo, com predomínio da função metalingüística da linguagem.
- C) narrativo, com predominância da função poética da linguagem.
- D) descritivo, com foco na argumentação e predomínio da função apelativa da linguagem.

03. A respeito dos elementos textuais, avalie as afirmativas a seguir:

- 1- As aspas usadas tanto em ... *um dos versos diz: “Eu quero crer na paz do futuro/ eu quero ter um quintal sem muro”*, como as usadas em ... *um de seus grandes sucessos, “Eu quero apenas”*, sugerem a reprodução textual do discurso direto.
- 2- Os dois pontos (:) que aparecem em: ... *aquele ideário do artista não foi alcançado: a paz não vigora em nosso mundo ...*, têm como finalidade introduzir um aposto explicativo.
- 3- Os acentos gráficos empregados nas palavras do texto **música**, **décadas** e **irônico** obedecem à mesma regra de acentuação.
- 4- A vírgula usada em: *Adeus, Roberto Carlos* tem como função separar um vocativo; e em *No início dos anos 70, Roberto Carlos gravou ...*, tem como função separar um adjunto adverbial.

O correto está em:

- A) 3 e 4, apenas.
- B) 1 e 2, apenas.
- C) 2, 3 e 4, apenas.
- D) 1, 2, 3 e 4.

04. A respeito dos elementos lingüísticos do texto, avalie as afirmativas a seguir:

- 1- Em: ... *como “Um milhão de amigos”*, **que** em um dos versos ..., o coesivo grifado é um pronome relativo, já que pode ser substituído por **o qual** e se refere a termo antecedente.
- 2- Em: ... *chegavam muitas vezes aos **prantos** ...*, se substituíssemos a expressão em negrito por **lágrimas**, a construção obrigatoriamente correta seria: *chegavam muitas vezes **às lágrimas***.
- 3- Em: **Portanto**, *já é possível constatar...*, o coesivo em negrito está adequadamente usado no início deste período já que lhe deve atribuir sentido conclusivo em relação ao que foi dito anteriormente.
- 4- Em: ... *ao longo desses anos acentuaram-se muros ...*, o pronome em destaque está empregado em posição proclítica, de acordo com a norma dita culta.
- 5- Em: ... *que fez **a cabeça** de muita gente* há uso de metonímia; e em ... *torno da qual ele tenta erguer um **muro** para protegê-la da “invasão” alheia ...*, há uma metáfora.

O correto está em:

- A) 1, 2, 3, 4 e 5.
- B) 1, 2, 3 e 5, apenas.
- C) 3, 4 e 5, apenas.
- D) 1 e 2, apenas.

## NOÇÕES DE INFORMÁTICA

**05.** O Windows Explorer permite que os ícones da área de trabalho possam ser visualizados em ícones grandes ou ícones pequenos, e ainda organizados por nome, por tipo, por data ou por tamanho. O menu que permite organizações desse tipo é o menu:

- A) Arquivo.
- B) Editar.
- C) Exibir.
- D) Ferramentas.

**06.** Assinale a alternativa que completa corretamente a afirmativa abaixo:

“Os *browsers*, definidos como softwares para navegar na Internet, normalmente ...

- A) não permitem a configuração de uma página padrão para a abertura, pois esse tipo de recurso é definido pelo provedor de acesso à internet.”
- B) permitem até o máximo de 5 janelas abertas, simultaneamente.”
- C) possibilitam, ao usuário, a configuração de uma “página inicial”, na qual é preciso digitar o endereço da página que se deseja carregar todas as vezes que o navegador é iniciado.”
- D) não permitem múltiplas janelas abertas, quando essas possuem formulários a serem preenchidos, visto que pode haver conflito entre os dados das páginas que contêm esses formulários.”

**07.** Quanto aos conceitos básicos relacionados a hardware e software, é correto afirmar:

- A) As impressoras jato de tinta são mais utilizadas, em relação às matriciais, em processos de impressão comercial, tais como: emissão de notas fiscais com mais de uma via.
- B) Os *pen drives* são dispositivos de memória secundária, cuja principal vantagem é a volatilidade de armazenamento, bem como a facilidade de conexão, via porta paralela do computador.
- C) Os monitores do tipo LCD são mais baratos que os CRT, em compensação, gastam mais energia do que estes últimos.
- D) Os discos rígidos e monitores podem ser classificados como periféricos de armazenamento e de saída, respectivamente. Entretanto, caso os monitores possuam dispositivos sensíveis ao toque podemos também classificá-los como periféricos de entrada e saída.

## NOÇÕES DE ADMINISTRAÇÃO PÚBLICA

- 08.** São insuscetíveis de modificação por parte da Administração Pública, fundada nos critérios de conveniência e oportunidade os:
- A) atos não consumados.
  - B) atos discricionários.
  - C) meros atos administrativos.
  - D) atos que não geram direitos adquiridos.
- 09.** De acordo com o Decreto Lei nº 200/67, que organizou a Administração Pública em Direta e Indireta, é correto afirmar que:
- A) as autarquias possuem personalidade de direito privado.
  - B) o capital das sociedades de economia mista é inteiramente público.
  - C) a personalidade jurídica das empresas públicas é de direito privado.
  - D) as empresas públicas são criadas para executar atividade típica da Administração Pública.
- 10.** Considerando as entidades que integram a Administração Pública Indireta é correto afirmar que as:
- A) autarquias têm sua criação autorizada em lei.
  - B) empresas públicas são criadas por lei.
  - C) sociedades de economia mista devem ter forma de Sociedade Anônima.
  - D) causas das sociedades de economia mista federal são processadas e julgadas na Justiça Federal.

## CONHECIMENTOS ESPECÍFICOS

NAS QUESTÕES NUMERADAS DE 11 A 30, ASSINALE A ÚNICA ALTERNATIVA QUE RESPONDE CORRETAMENTE AO ENUNCIADO.

11. O projeto de um conjunto habitacional, a ser executado em determinada cidade, está situado numa zona considerada pela legislação urbanística como sendo de interesse social e prevê que os lotes terão 6m (seis metros) de largura por 20m (vinte metros) de comprimento. Considerando que as legislações urbanísticas do Município e do Estado, onde a cidade está situada, seguem o que está estabelecido na Lei nº 6.766/79 e suas atualizações, pode-se dizer, em relação aos lotes, que:
- A) há irregularidade na largura.
  - B) há irregularidade no comprimento.
  - C) há irregularidade na área.
  - D) não há nenhuma irregularidade.
12. Uma prefeitura municipal está interessada em comprar certo terreno, situado na sede do município e pertencente a um proprietário particular, para implantar no local um posto de saúde. Qual o instrumento previsto, no Estatuto da Cidade, que a prefeitura deve utilizar para ter a preferência na compra do imóvel, quando o mesmo for posto à venda pelo proprietário?
- A) Desapropriação com títulos da dívida pública.
  - B) Direito de preempção.
  - C) Outorga onerosa do direito de construir.
  - D) IPTU progressivo no tempo.
13. Muitos moradores de uma determinada cidade, quando fazem obras de reforma ou ampliação em seus imóveis, costumam colocar restos de materiais de construção nas vias públicas, dificultando a passagem de pessoas e veículos, além de criar obstáculos à drenagem pluvial. A prefeitura resolveu, então, iniciar uma campanha educativa para combater o problema. Nesse sentido, elaborou uma cartilha para que os moradores possam conhecer a legislação urbanística sobre a matéria, que está apresentada, principalmente no (na):
- A) Lei de Controle Urbanístico.
  - B) Lei de Perímetro Urbano.
  - C) Código de Posturas.
  - D) Código de Obras e Edificações.
14. Leia as afirmações seguintes, referentes ao Plano Diretor, nos termos em que está colocado na Lei nº 10.257, de 10/07/2001 (Estatuto da Cidade):
- I. Todas as cidades de menos de 20 mil habitantes não são obrigadas a elaborá-lo.
  - II. É o instrumento que define, concretamente, a função social da propriedade em cada cidade.
  - III. As cidades com mais de 500 mil habitantes são obrigadas a elaborar, também, um plano de transporte integrado, que seja compatível com o Plano Diretor.
  - IV. Sua aplicação está restrita às áreas urbanas do município.
- Estão corretas somente as afirmativas:
- A) I e II.
  - B) II e III.
  - C) II e IV.
  - D) I, III e IV.

15. Você foi contratado para execução dos serviços de assentamento de revestimento cerâmico com aplicação de rejunte. A seguir é apresentada a composição de preço unitário para o serviço:

COMPOSIÇÃO DE PREÇO UNITÁRIO					
Descrição do Serviço: ASSENTAMENTO DE REVESTIMENTO CERÂMICO E APLICAÇÃO DE REJUNTE			Unidade: Metro quadrado		
			Quantidade Prevista: 200,00 m <sup>2</sup>		
Categoria Profissional	Unidade	Quantidade	Salário (R\$)	Efetivo (quantidade)	Total Parcial (R\$)
PEDREIRO	HORA	0,60	2,56	120,00	1,54
SERVENTE	HORA	0,40	1,78	80,00	0,71
Soma					2,25
Encargos Sociais			124,50%		2,80
TOTAL PARCIAL					5,05
Descrição dos Materiais	Unidade	Quantidade	Valor Unitário (R\$)	Materiais Quantidades	Total Parcial (R\$)
CERÂMICA	M2	1,10	28,00	220,00	30,80
ARGAMASSA COLANTE	KG	4,50	1,60	900,00	7,20
REJUNTE	KG	0,25	1,25	50,00	0,31
TOTAL PARCIAL					38,31
CUSTO DIRETO DO SERVIÇO					43,36
B.D.I.			28,00%		12,14
PREÇO UNITÁRIO (R\$)					R\$55,50

Quais os valores, respectivamente corretos para:

**I-** pagamento da mão-de-obra com a incidência da taxa de Encargo social. **II-** compra da quantidade de argamassa necessária para realização do serviço. **III-** taxa de B.D.I. (Bonificação de Despesas Indiretas) adotada no orçamento.

- A) R\$ 5,05; 50 quilos; 124,50 %  
 B) R\$ 5,05; 900 quilos; 28,00 %  
 C) R\$ 2,25; 900 quilos; 124,50 %  
 D) R\$ 2,25; 50 quilos; 28,00 %

16. Sobre custo indireto é correto afirmar:

- I- O custo indireto de uma obra é formado pelo levantamento do custo dos materiais de construção, dos equipamentos e da mão-de-obra, diretamente utilizados na produção de cada um dos serviços de construção.
- II- A CPMF é a contribuição provisória sobre movimentações financeiras, com alíquota de 0,35 % sobre as retiradas de dinheiro na conta corrente bancária.
- III- Uma das parcelas do custo indireto de uma obra é formada pelo custo da estrutura administrativa, no local da obra, para possibilitar a direção e a fiscalização técnica dos serviços e controle de custos.
- IV- O ISS – Imposto Sobre Serviços é municipal, com alíquotas e bases de cálculo definidas pelo município.

O correto está em:

- A) III e IV, somente.
- B) I, II e IV, somente.
- C) II, III e IV, somente.
- D) I, II, III e IV.

17. A Lei 8.666, de 21 de junho de 1993, estabelece normas gerais sobre licitações e contratos administrativos pertinentes a obras, serviços, compras, alienações e locações no âmbito dos Poderes da União, dos Estados, do Distrito Federal e dos Municípios. Conforme art. 65, os contratos regidos por esta Lei poderão ser alterados *Unilateralmente pela Administração*, com as devidas justificativas, nos seguintes casos:

- I- quando houver modificação do projeto, ou das especificações técnicas, para melhor adequação técnica aos seus objetivos.
- II- quando necessária a modificação do valor contratual, em decorrência de acréscimos ou diminuição quantitativa de seu objeto, nos limites permitidos por Lei.
- III- quando necessária a modificação do regime de execução da obra ou serviço, em face de verificação técnica da inaplicabilidade dos termos contratuais originários.
- IV- quando necessária a modificação da forma de pagamento, por imposição de circunstâncias supervenientes, mantido o valor inicial atualizado.

O correto está em:

- A) III e IV, apenas.
- B) I, II, III e IV.
- C) I, III e IV, apenas.
- D) I e II, apenas.

**18.** Durante a fase de análise e julgamento das propostas comerciais, a administração pública deve avaliar as taxas de leis sociais e riscos de trabalho, propostas por cada construtor. Especificamente para o grupo A - encargos sociais básicos e em relação aos valores percentuais, é correto:

- I- Previdência Social = 20,00 %
- II- Fundo de Garantia por Tempo de Serviço = 8,50 %
- III- Salário Educação = 2,50 %
- IV- Serviço Social da Indústria (SESI) = 1,50 %

O correto está em:

- A) I, III e IV, somente.
- B) I, II, III e IV.
- C) II e IV, somente.
- D) I, II e III, somente.

**19.** O Contrato firmado em qualquer âmbito com um dos Poderes da União, dos Estados, do Distrito Federal e dos Municípios deverá ser executado fielmente pelas partes, de acordo com as cláusulas avençadas e as normas contidas na lei de Licitações e contratos públicos, respondendo cada uma das partes pelas consequências de sua inexecução total ou parcial. Visando garantir o interesse público é correto que:

- I- deve nomear um representante da Administração, especificamente designado, sendo permitida a contratação de terceiros para assisti-lo e subsidiá-lo de informações pertinentes.
- II- deve nomear um representante da Administração, especificamente designado, não sendo permitida a contratação de terceiros para assisti-lo e subsidiá-lo de informações pertinentes.
- III- deve proceder o recebimento provisório de obras e serviços, através do responsável por seu acompanhamento e fiscalização, mediante termo circunstanciado, assinado pelas partes.
- IV- deve proceder o recebimento definitivo através de servidor ou por comissão designada pela autoridade competente, mediante termo circunstanciado, assinado pelas partes, após vistoria que comprove a adequação do objeto aos termos contratuais.

São corretas somente as afirmativas:

- A) I e II.
- B) I, III e IV.
- C) II e IV.
- D) I e III.

20. O uso de técnicas de planejamento pela administração pública pode facilitar, imensamente, na determinação dos prazos de execução de serviços, o acompanhamento e a avaliação do desempenho do construtor, quanto ao cumprimento do avanço físico da obra, bem como, pode servir para apoiar a própria fiscalização do órgão no que se refere as medições. É correto afirmar:

- I- **CPM** é uma técnica de preparação de planos denominada Método do Caminho Crítico e consiste no desenvolvimento de uma rede de atividades na qual são realizados cálculos simples, com o intuito de se explicitar datas de início e de término de cada atividade. Os cálculos das datas baseiam-se nas durações estimadas existentes em um banco de dados da empresa, ou em planilhas orçamentárias.
- II- **PERT** é uma técnica de preparação de planos denominada Técnica de Avaliação e revisão de Projetos, bastante similar ao **CPM**, entretanto, o cálculo do **PERT** envolve estimativas estatísticas segundo as quais as datas de cada atividade são calculadas em patamares otimistas, pessimistas e mais prováveis.
- III- Os Diagramas de Precedências são similares às redes **CPM** e **PERT**. A diferença reside no fato de que as atividades, nesse diagrama, não são representadas por setas mas por eventos.
- IV- O Diagrama de Gantt é considerado uma das mais antigas técnicas para a preparação de uma programação. Consiste em um gráfico em que em um de seus eixos é representada a unidade de tempo para o controle e, no outro, são representadas as atividades que serão realizadas.

São corretas somente as afirmativas:

- A) I, II e III, somente.
- B) III e IV, somente.
- C) I, II, III e IV.
- D) I e II, somente.

21. AutoCAD é um software do tipo CAD – computer aided design ou, projeto assistido por computador – criado e comercializado pela Autodesk, Inc. desde 1982. É utilizado, principalmente, para a elaboração de peças de desenho técnico em duas dimensões (2D) e para criação de modelos tridimensionais (3D). Além dos desenhos técnicos, o software vem disponibilizando, em suas versões mais recentes, vários recursos para visualização em diversos formatos. É amplamente utilizado em arquitetura, design de interiores, engenharia mecânica e em vários outros ramos da indústria. Considere o programa AUTOCAD 2007. Sua interface gráfica é bastante intuitiva, e os comandos podem ser acionados através de ícones dispostos em barras de ferramenta, ou então, através da digitação da ferramenta desejada numa linha de comando. Os comandos COPY, MOVE e ROTATE, quando utilizados, podem ser escritos por extenso na linha de comando, mas também podem ser, respectivamente, digitados da seguinte maneira:

- A) C, MO, RO.
- B) CO, M, R.
- C) CP, M, RO.
- D) CP, M, RT.

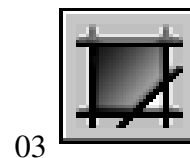
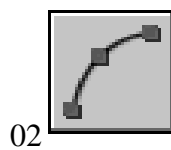
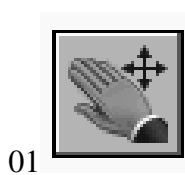
22. Em arquitetura, o processo projetual se desenvolve através de uma série de etapas concatenadas e interdependentes. A primeira etapa deste processo se constitui de um conjunto sistematizado de necessidades para um determinado uso de uma construção. Tal etapa norteia as decisões arquitetônicas a serem tomadas. Esta fase é um dos principais determinantes do projeto, juntamente com o partido, do sítio e das restrições legais. Esta primeira etapa do processo projetual aqui referida corresponde à (ao):

- A) Projeto *as built*.
- B) Estudo de viabilidade técnica.
- C) Estudo Preliminar.
- D) Elaboração de programa de necessidade.

23. No processo projetual, é correto afirmar sobre a etapa de estudo preliminar:

- A) constitui a configuração inicial da solução arquitetônica proposta para a obra (partido), consideradas as principais exigências contidas no programa de necessidades. Deve receber a aprovação preliminar do cliente.
- B) constitui a configuração final da solução arquitetônica proposta para a obra, considerando todas as exigências contidas no programa de necessidades e o Estudo Preliminar aprovado pelo cliente. Deve receber a aprovação final do cliente.
- C) é uma sub-fase ao Anteprojeto, e constitui a configuração técnico-jurídica da solução arquitetônica proposta para a obra, considerando as exigências contidas no programa de necessidades, ou no Anteprojeto aprovado pelo cliente, e as normas técnicas de apresentação e representação gráfica emanadas dos órgãos públicos (em especial, Prefeitura Municipal, concessionárias de serviços públicos e Corpo de Bombeiros).
- D) um conjunto de documentos técnicos (memórias, desenhos e especificações) necessários à licitação e/ou execução (construção, montagem, fabricação) da obra. Constitui a configuração detalhada do Anteprojeto aprovado pelo cliente. É uma fase complementar do projeto que se desenvolve, concomitantemente à execução da obra, não se confundindo com os projetos complementares.

24. Sobre os comandos do programa AUTOCAD 2007, considere as imagens abaixo:



As três figuras correspondem, respectivamente, aos comandos:

- A) move, polyline, hatch.
- B) pan realtime, arc, gradient.
- C) erase, line, polygon.
- D) pan realtime, line, hatch.

**25.** Considere a Lei Complementar de Controle Urbanístico (LCCU) nº 02, de 19 de julho de 1999 e alterações. Nos termos da referida Lei, o termo OUTORGA ONEROSA é:

- A) um valor de cunho pecuniário que deve ser pago aos cofres municipais, pela prática de infração às normas e leis municipais.
- B) um ato pelo qual a Prefeitura, após a devida vistoria, certifica a execução correta das obras exigidas pela legislação competente.
- C) a soma das áreas dos pisos utilizáveis, cobertos ou não, de todos os pavimentos de uma edificação, excluindo-se as áreas, a nível do solo, apenas pavimentadas.
- D) a cobrança feita pelo Poder Executivo, para efeito de expedição de licença para construir, quando da utilização do solo criado.

**26.** Considerando ainda a Lei Complementar de Controle Urbanístico (LCCU) nº 02, de 19 de julho de 1999 e alterações. Nos termos da referida Lei, o índice de percolação (ou taxa de percolação) é:

- A) um índice restritivo, relativo ao limite de área de construção. Para saber o limite máximo de área de construção, o índice de percolação é multiplicado pela área do terreno e dividido pelo valor venal do mesmo.
- B) uma percentagem da área total do terreno, que não pode ser vedada ou construída. Esta área, definida pelo índice de percolação, deve permitir a penetração da água da chuva, ou seja, a percolação, de maneira tal a não causar impactos nos lençóis de água subterrâneos.
- C) um índice relativo ao limite máximo da secção transversal do terreno, que pode ser construído. A utilização do índice de percolação, como limitador da construção na secção transversal do terreno, não significa que os afastamentos laterais não têm mais aplicação, pois, em verdade, ambos os índices atuam de maneira correlata na estipulação de limites construtivos.
- D) uma taxa que deve ser multiplicada pelo valor venal do terreno e que deverá ser paga à órgão competente, para efeito de obtenção de “habite-se”. Note-se que a taxa, ou índice de percolação, é diretamente dependente da zona em que o terreno em questão está situado.

**27.** Considere o Decreto Lei nº 5.296, de 02 de Dezembro de 2004, que Regulamenta a Lei nº 10.048, de 8 de novembro de 2000, que dá prioridade de atendimento às pessoas que especifica, e a Lei nº 10.098, de 19 de dezembro de 2000, que estabelece normas gerais e critérios básicos para a promoção da acessibilidade das pessoas portadoras de deficiência ou com mobilidade reduzida. O Artigo 15 do referido Decreto define o seguinte:

*“Art. 15. No planejamento e na urbanização das vias, praças, dos logradouros, parques e demais espaços de uso público, deverão ser cumpridas as exigências dispostas nas normas técnicas de acessibilidade da ABNT.” (Decreto Lei nº 5.296, de 02 de Dezembro de 2004)*

Considerando o disposto no Art. 15, incluem-se na condição estabelecida no caput:

- A) a construção de ciclovia para circulação de ciclistas e motociclistas ou a adaptação de situações consolidadas.
- B) a elevação de calçadas com acesso através de plataformas eletromecânicas, ou rebaixamento das vias para travessia de pedestres, através de passarelas rampadas e devidamente protegidas.
- C) a instalação de piso tátil direcional e de alerta.
- D) instalações de barras de segurança lateral, ao longo das vias que apresentem piso tátil direcional e de alerta.

**28.** O Artigo 23 do Decreto Lei nº 5.296, de 02 de Dezembro de 2004, dispõe o seguinte:

*“Art. 23. Os teatros, cinemas, auditórios, estádios, ginásios de esporte, casas de espetáculos, salas de conferências e similares reservarão, pelo menos, dois por cento da lotação do estabelecimento para pessoas em cadeira de rodas, distribuídos pelo recinto em locais diversos, de boa visibilidade, próximos aos corredores, devidamente sinalizados, evitando-se áreas segregadas de público e a obstrução das saídas, em conformidade com as normas técnicas de acessibilidade da ABNT.”(Decreto Lei nº 5.296, de 02 de Dezembro de 2004)*

Considerando o disposto no referido artigo, é correto afirmar:

- A) Nas edificações previstas no artigo, é obrigatória, ainda, a destinação de dois por cento dos assentos para acomodação de pessoas portadoras de deficiência visual e de pessoas com mobilidade reduzida, incluindo obesos, em locais de boa recepção de mensagens sonoras, devendo todos serem devidamente sinalizados e estarem de acordo com os padrões das normas técnicas de acessibilidade da ABNT.
- B) No caso de não haver comprovada procura pelos assentos reservados, estes, sob nenhuma hipótese ou condição especial, poderão ser ocupados por pessoas que não sejam portadoras de deficiência, ou que não tenham mobilidade reduzida.
- C) Os espaços e assentos a que se refere este artigo deverão situar-se em locais que garantam a acomodação de, no mínimo, uma pessoa em cadeira de rodas e um assento maior para a utilização por pessoa portadora de deficiência, ou com mobilidade reduzida, que se utilize de muletas ou andadores.
- D) As áreas de acesso aos artistas, tais como coxias e camarins, não precisam apresentar acessibilidade a pessoas portadoras de deficiência, ou com mobilidade reduzida, em função de serem espaços de uso restrito e não aberto ao público.

**29.** É correto afirmar sobre a Norma 5675 – NBR 5675/80 da ABNT:

- A) Dispõe sobre a avaliação correta de custos unitários, bem como sobre os procedimentos para a elaboração de orçamento de construção para incorporação de edifício em condomínio.
- B) Apresenta conceitos importantes sobre a fiscalização de serviços e obras de arquitetura e engenharia que podem, e devem ser considerados, visando a reforçar a eficácia dos atos fiscalizatórios.
- C) Estabelece as condições básicas de desempenho de caixilhos de portas, bem como suas características físicas, químicas e mecânicas.
- D) Estabelece as características gerais que devem ser obedecidas nos trabalhos com o material “gesso”. Dentre tais características, encontram-se a resistência à abrasão, absorção de água; gretamento; resistência ao impacto e diferença de tonalidade.

**30.** Considerando a Lei Federal nº 6766/79, de 19 de dezembro de 1979, que dispõe sobre o parcelamento do solo urbano, é correto afirmar:

- A) A respeito do disposto na Lei Federal 6.766/79, são apontadas algumas críticas, dentre elas o fato da referida Lei não estabelecer a figura do desdobro de lote, constante em várias municipalidades, onde também a Lei deixou de se referir ao remembramento, ao desdobro e ao loteamento.
- B) No universo das leis urbanísticas, a Lei Federal 6.766/79 se destaca primeiro porque foi a primeira Lei de âmbito regional, que dispõe sobre o parcelamento, o remembramento, o desdobro e o loteamento do solo urbano, ações estas que devem ser gerenciadas de perto por órgãos das municipalidades regionais.
- C) A referida Lei estabelece o parcelamento do solo em múltiplas condições, sendo aplicável em zonas urbanas, de expansão urbana, de urbanização específica, assim definidas pelo Plano Diretor ou Lei Municipal. Mas, no universo das leis urbanísticas, a Lei nº 6.766/79 destaca-se por incluir, em sua órbita de aplicação, os loteamentos para fins rurais.
- D) A Lei em tela mudou o cotidiano das administrações municipais, pois transferiu da esfera do município para a esfera federal, praticamente, toda a responsabilidade em legislar sobre apropriação e desapropriação por utilidade pública, registros públicos e parcelamentos do solo urbano e rural.