

CONHECIMENTOS BÁSICOS

LÍNGUA PORTUGUESA

LEIA O TEXTO PARA RESPONDER ÀS QUESTÕES NUMERADAS DE 01 A 05, ASSINALANDO A ALTERNATIVA CORRETA.

EM HONRA A SÃO BENEDITO

Desde o mês de junho, a comissão de devotos percorre as ruas e as redondezas da cidade fazendo a tradicional esmolação do Santo, acompanhada de canções e de instrumentos musicais, com o propósito de angariar fundos para a realização da festa maior que ocorre no dia 18 de dezembro.

Para isto, os chamados esmoleiros andam quilômetros e mais quilômetros pelo município de Bragança, atraindo a atenção de todos os devotos para que abram suas residências a fim de receber o “Glorioso São Benedito”. É nesta ocasião que são feitas as preces mais fervorosas, ao toque dos tambores, flautas, violas e chocalhos, dirigidos ao altar improvisado.

(Ver-O-Pará/Amazônia – nº 9 /Texto Heraldo Montarroyos)

01. Em: “Os chamados esmoleiros andam quilômetros e mais quilômetros **para esmolar**”, a expressão grifada corresponde a:

- A) dar presentes aos pobres.
- B) acolher os viajantes em suas casas.
- C) pedir auxílio para os necessitados.
- D) premiar os fiéis fervorosos.

02. Qual alternativa apresenta a correta divisão silábica das palavras?

A)	Fes - tas	O - ca - sião
B)	Glo - rio - so	Al - tar
C)	O - co - rre	De - vo - tos
D)	Flau - tas	Vi - o - las

03. Em qual alternativa há uma palavra que apresenta dígrafo e encontro consonantal?

- A) Altar.
- B) Quilômetros.
- C) Chocalhos.
- D) Glorioso.

04. A **comissão** de devotos percorre as **ruas**.

comissão

ruas

Os substantivos destacados acima estão flexionados, respectivamente em:

- A) Feminino plural / Feminino singular
- B) Masculino plural / Feminino plural
- C) Feminino singular / Feminino plural
- D) Masculino plural / Masculino plural

05. Assinalar a alternativa adequada para completar a frase a seguir:

_____ eles andam tanto?

- A) Porque
- B) Por que
- C) Porquê
- D) Por quê

MATEMÁTICA

NAS QUESTÕES NUMERADAS DE **06** A **10**, ASSINALE A ÚNICA ALTERNATIVA CORRETA.

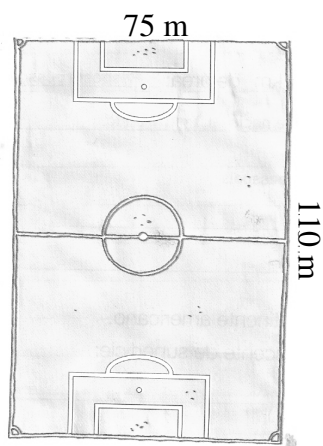
06. Num fim de semana, 87 ônibus saíram com destino à praia de Ajuruteua, todos com sua lotação máxima de 42 passageiros sentados. Quantas pessoas esses ônibus transportaram para a praia?

- A) 3654
- B) 3664
- C) 3665
- D) 4654

07. Na ordem crescente, o conjunto dos números naturais maiores que cinco dúzias e meia e menores que sete dezenas, é, respectivamente:

- A) {67, 68, 69}
- B) {66, 67, 68, 69}
- C) {67, 68, 69, 70}
- D) {66, 67, 68}

08. Calcule a área do campo de futebol desenhado abaixo e assinale a alternativa correta:

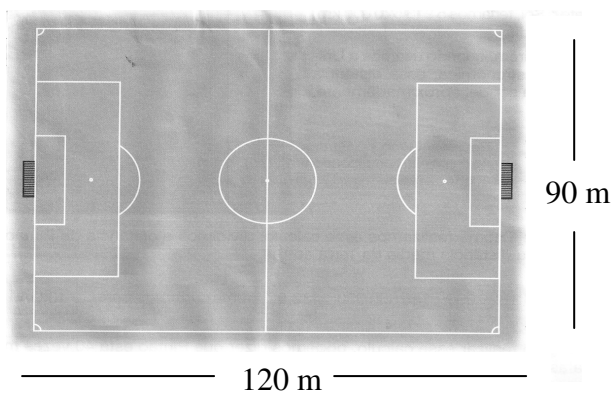


- A) 8.350 m^2
- B) 7.250 m^2
- C) 8.150 m^2
- D) 8.250 m^2

09. Uma rua tem 600 m de comprimento e está sendo asfaltada. Em seis dias foram asfaltados 180 m da rua. Supondo que o ritmo de trabalho continue o mesmo, em quantos dias o trabalho estará terminado?

- A) 12 dias
- B) 10 dias
- C) 20 dias
- D) 24 dias

10. O campo de futebol abaixo é representado por qual forma geométrica plana e qual o perímetro desse campo?

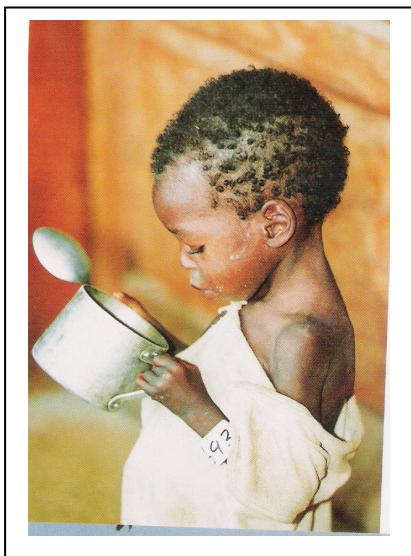


- A) Retângulo e 420 m
- B) Quadrado e 420 m
- C) Retângulo e 320 m
- D) Quadrado e 320 m

CONHECIMENTOS ESPECÍFICOS

NAS QUESTÕES NUMERADAS DE 11 A 19, ASSINALE A ÚNICA ALTERNATIVA CORRETA.

11.



As duas figuras acima estão relacionadas a problemas que afetam muitas pessoas no Brasil e no mundo. Estes problemas são:

- A) fome e pobreza.
 - B) analfabetismo e falta de escolas.
 - C) preconceito e discriminação.
 - D) trabalho infantil e prostituição.
12. Você é um auxiliar de serviços e foi encarregado de atender ao público, na Secretaria de Educação. Quem deve ter atendimento prioritário?
- A) autoridades municipais e pessoas da Secretaria.
 - B) idosos, gestantes e deficientes.
 - C) as pessoas que chegaram primeiro na fila.
 - D) as pessoas que tem numeração de senha.
13. Muitas vezes as relações humanas no trabalho são prejudicadas devido a barreiras de comunicação, tais como:
- A) cooperação entre as pessoas.
 - B) linguagem inadequada.
 - C) salários diferentes.
 - D) liberdade.

- 14.** Você trabalha em um refeitório da Prefeitura com a manipulação de alimentos. O local onde você desenvolve suas atividades para que sejam mantidas as condições adequadas de higiene, deve ser limpo:
- A) no início das atividades.
 - B) ao final das atividades.
 - C) quantas vezes forem necessárias, durante a realização das atividades e após o seu término.
 - D) pelo menos uma vez durante a atividade.
- 15.** A água distribuída para consumo de pessoas, considerando os aspectos relacionados com a saúde, deve ser:
- A) cristalina.
 - B) de uma fonte.
 - C) de um poço.
 - D) potável.
- 16.** A segurança do trabalho tem como principal finalidade:
- A) alertar o trabalhador para que ele seja mais eficiente.
 - B) evitar a ocorrência de acidentes do trabalho.
 - C) determinar qual empregado apresenta melhores resultados no trabalho.
 - D) punir trabalhadores que cometem atos indisciplinados.
- 17.** Uma rede elétrica com tensão de utilização de 110 V deve possuir, pelo menos:
- A) uma fase e um neutro.
 - B) duas fases.
 - C) duas fases e o aterramento.
 - D) três fases.
- 18.** Todos os equipamentos usados em serviços de limpeza, manutenção e conservação devem receber cuidados para que apresentem sempre condições adequadas para o uso. Pode ser citado como exemplo de cuidados com equipamentos:
- A) não realizar limpeza em equipamentos que estão na garantia.
 - B) ligar equipamentos, à rede elétrica, sem observar a tensão da rede.
 - C) manter equipamentos guardados em local inadequado.
 - D) executar limpeza, lubrificações e manutenção periódica.

19. Dentre os direitos e garantias fundamentais previstos no art. 5º da Constituição Federal, destaca-se um que é conhecido como o Princípio da Igualdade. Assinale abaixo a alternativa que contém esse princípio:

- A) Ninguém será obrigado a fazer ou deixar de fazer alguma coisa senão em virtude da lei.
- B) Homens e mulheres são iguais em direitos e obrigações nos termos da Constituição Federal.
- C) É livre a locomoção no território nacional para qualquer cidadão brasileiro.
- D) É livre o exercício de qualquer trabalho, ofício ou profissão, desde que amparados por lei.

Na questão de número **20** são-lhe dadas algumas informações e é solicitado que responda à pergunta utilizando os fatos conforme lhe foram apresentados. Assinale apenas uma resposta correta.

20. Considerando que na empresa “Bragança Feliz”, o funcionário Carlos possui 35 anos de idade; o Clóvis é 5 anos mais velho que o Carlos; o Paulo é 7 anos mais velho que o Clóvis e o Ivan é 10 anos mais novo que o Paulo,

pergunta-se: **Qual é o funcionário mais novo?**

- A) Carlos.
- B) Clóvis.
- C) Paulo.
- D) Ivan.